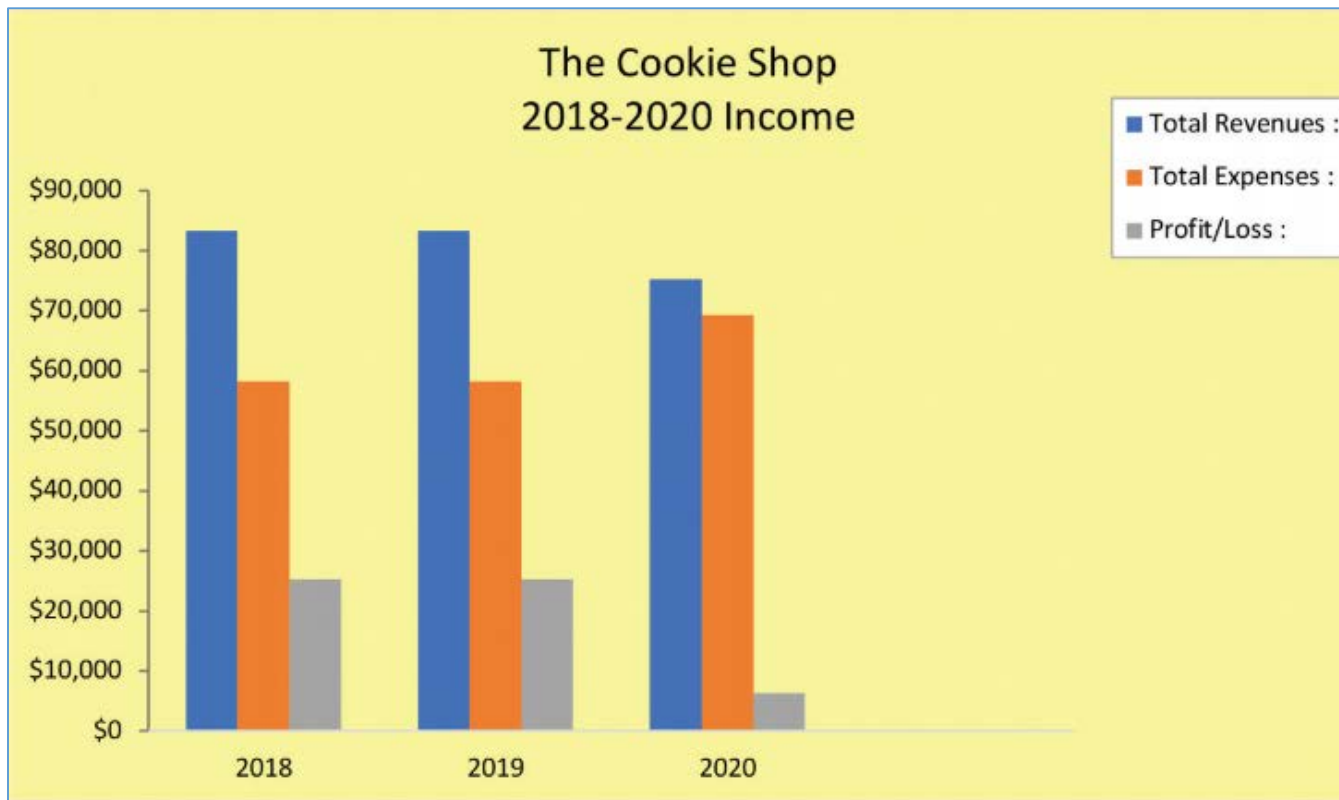


Unit 5

Timetables and Graphs



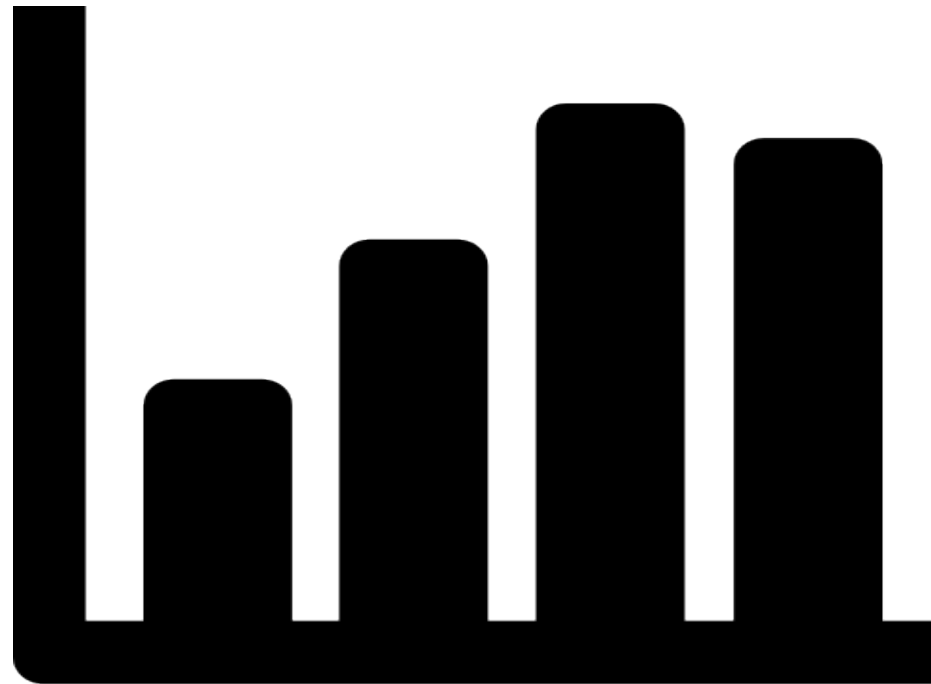
Look at the picture above, then answer the questions.





1. Chart

A chart showing the departure and arrival times of trains, buses or planes.





2. Schedule

Example

	Monday	Tuesday	Wednesday	Thursday	Friday	Saturday	Sunday
6:00 AM	Olympic	WOD	WOD	Olympic	WOD		Rest Day Summertime Swim Workout
7:00 AM	WOD	WOD		WOD			
8:30 AM						Power Hour & Endurance	
9:30 AM	Core Endurance	WOD	Core Endurance	WOD	Core Endurance	WOD	
12:00 PM	WOD	WOD	WOD	WOD	WOD		
4:30 PM	WOD	WOD	Power Hour	WOD	Power Hour		
5:15 PM	Endurance						
5:30 PM	WOD	WOD	WOD	Yoga	WOD		
6:30 PM	WOD & Open Gym	WOD & Open Gym	Core Endurance & Open Gym	WOD & Open Gym			





3. Timetable

Example

Lewis Engineering

Schedule :

John Carter and Karl Peters, Australian Power Utilities

Tuesday 15th April

- | | |
|----------------|---|
| 1 : 30-3 : 30 | Tour of factory
with Mana Thongdee (Factory Manager) and Mary Fang |
| 3 : 30-5 : 00 | Discussion of ideas for new equipment with
Mary Fang and the team of engineers |
| 6 : 30 onwards | Dinner with Mr. Cash (Managing Director) and Mary Fang |

Wednesday 16th April

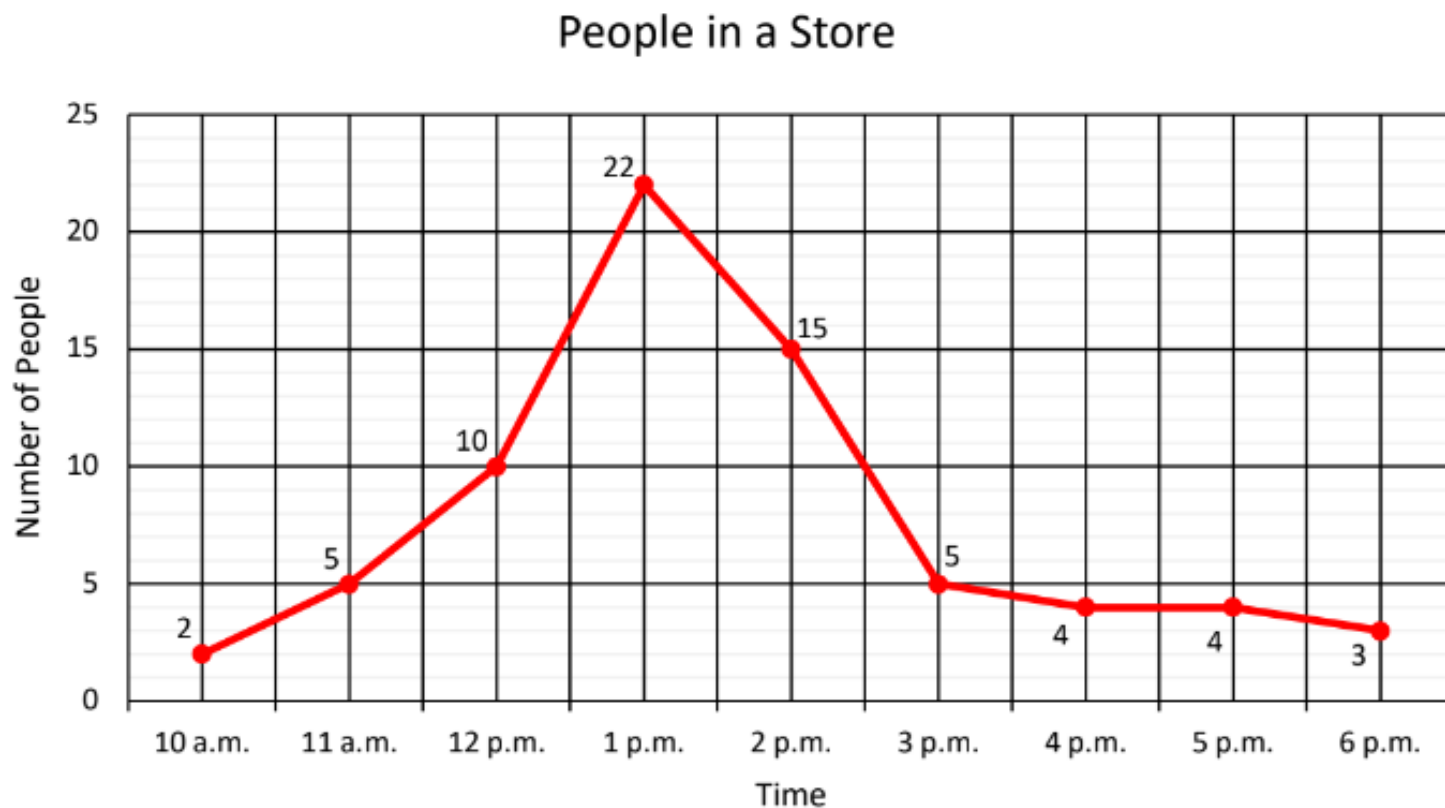
- | | |
|----------------|---|
| 9 : 30 | Pick up from hotel to go to test facility with
Mary Fang and Somchai Phakdee |
| 10 : 00-3 : 00 | Test facility tour
with Jim Thomson (Test Manager) |
| 4 : 00 | Pick up from office to airport |
| 7 : 00 | Flight departs to Australia |



4. Graphs

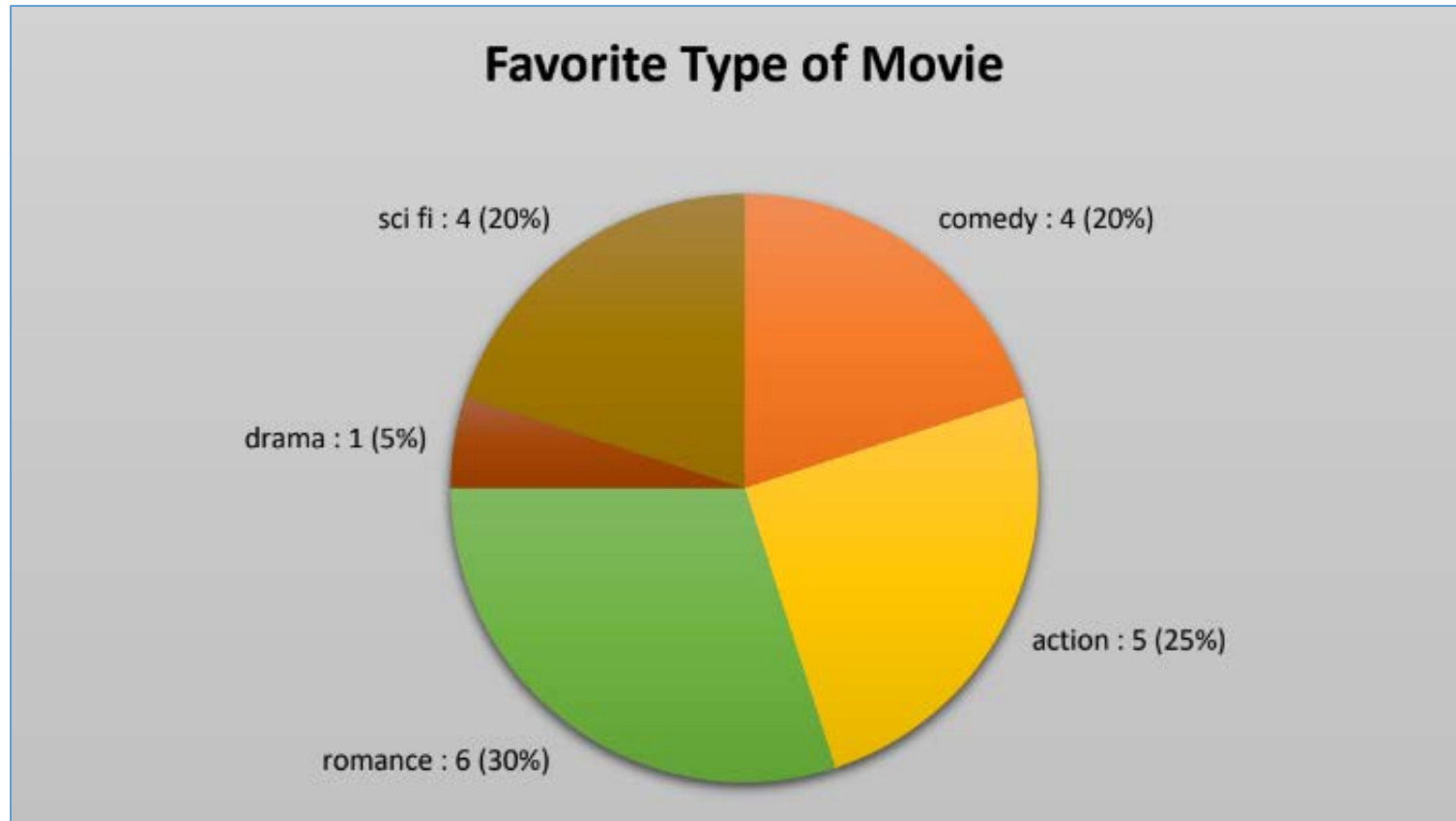
4.1 Line Graph

แสดงเส้นเชื่อมต่อกันหลายจุด เพื่อแสดงความสัมพันธ์ระหว่างจุดเหล่านั้น



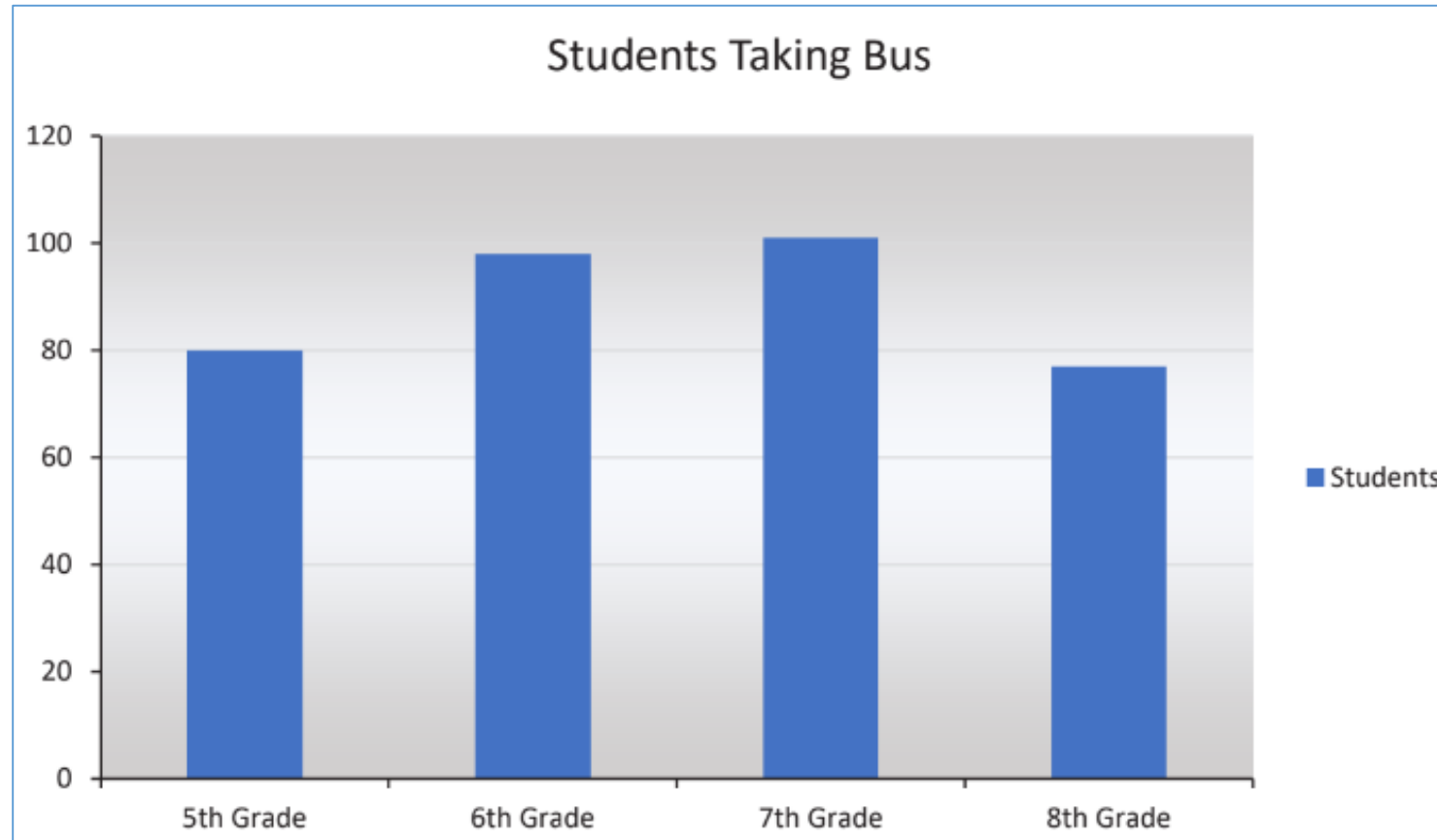
4.2 Pie Chart

เป็นแผนภูมิที่แบ่งเป็นส่วน แต่ละส่วนแสดงขนาดของข้อมูลที่เกี่ยวข้องกัน
จุดเด่นของแผนภูมินี้คือ แต่ละส่วนแสดงจำนวนเปอร์เซ็นต์ของข้อมูลทั้งหมด



4.3 Bar Graph

เป็นแผนภูมิที่ใช้เส้นลาก แกน **X** และ **Y** และแสดงแนวนอนและแนวตั้งตามขนาดของคุณค่า โดยแสดงเปรียบเทียบข้อมูลที่แบ่งเป็นส่วน ๆ ได้



Practice Time

1

Read the following passage about Tom Gibson's plan, then write the schedule for him.

2

Read the following Bangkok To London Flight Schedule. Then answer the questions.

3

Read the graph below, then answer the questions.

4

Look at the line graph that shows monthly average temperature in four large cities : Tokyo, New York, Berlin and London.



Reading Activities

Activity 1

Interpreting line graphs

Activity 2

Reading a table : cup final results

Activity 3

Interpreting information from bar charts

Activity 4

Reading Pie Chart

- 4.1 This pie chart shows time spent reading each day. Read it and answer these questions.
- 4.2 This pie chart shows time spent with doctors. Read it and circle the best answer.

Activity 5

Reading Circle Graph



Q & A

